

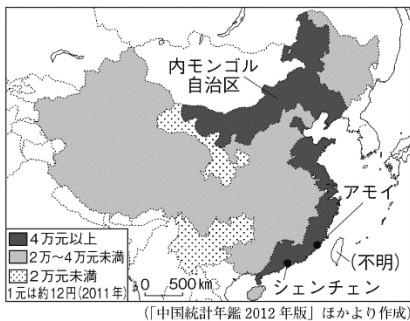
基本問題

- ① 日本を含む東アジアからインドを含む南アジアにかけてふく、夏と冬で向きが逆になる風を何というか。
- ② アジア州の中央部にある、8000mを超える山々が連なる山脈を何というか。
- ③ 中国の人口は約何億人（2022年）であるか。次のア～エの中から1つ選び、記号で答えなさい。
ア：5億人 イ：9億人 ウ：14億人 エ：20億人
- ④ 中国でおこなわれていた、一組の夫婦が産み育てる子どもは一人だけとする政策を何というか。
- ⑤ 中国で、外国企業を受け入れるために設けられた特別な地区を何というか。
- ⑥ 工業生産が増加し、製品を世界中に輸出するようになった中国は何とよばれるようになったか。
- ⑦ 発展途上国の中でも韓国・台湾・香港・シンガポールなどのように経済成長が著しい国・地域を何とよぶか。
- ⑧ モンゴルなどで行われている、一定の土地に定着せず、水や牧草を追って牛や羊、らくだなどの家畜を移動させながら飼育することを何というか。

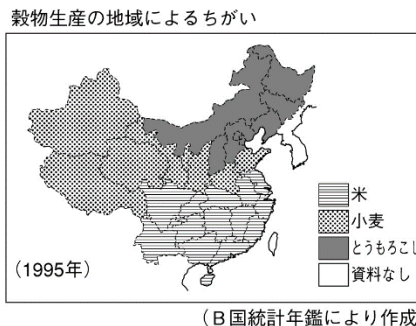
①	季節風（モンスーン）	②	ヒマラヤ山脈	③	ウ	④	一人っ子政策
⑤	経済特区	⑥	世界の工場	⑦	アジアNIES（新興工業経済地域）	⑧	遊牧

発展問題

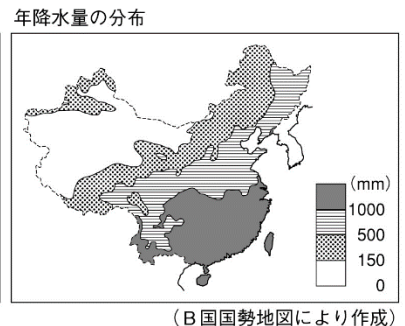
資料1



資料2



資料3



- ① 中国と韓国の首都はそれぞれどこか。次のア～エの組み合わせの中から一つ選び、記号で答えなさい。
ア 中国：上海 韓国：プサン イ 中国：北京 韓国：ソウル
ウ 中国：上海 韓国：ソウル エ 中国：北京 韓国：プサン
- ② 中国では1979年から一人っ子政策が行われてきた。中国がこの政策を実施した目的を簡単に書きなさい。
- ③ 中国で、経済が発展しているのは、どのような地域であるか。資料1を参考にして書きなさい。
- ④ 資料1から、中国国内でどのような問題があるといえるか。経済の面に着目して書きなさい。
- ⑤ 資料2から、中国の華南地方で主に生産されている穀物は何か書きなさい。
- ⑥ 中国で小麦はどのような地域で栽培されているか。資料2, 3を参考にして書きなさい。

①	イ	②	(例) 人口が増加するのを抑制するため。
③	(例) 主に沿岸部が発展している。	④	(例) 経済格差が生じている問題。
⑤	米	⑥	(例) 降水量が少ない地域で栽培されている。